

## Контрольная работа по истории 8 класс за 1 полугодие (60 минут)

1. Что из перечисленного относится к периоду правления Петра I. (выберите не сколько вариантов)

1. Создание коллегий
2. Проведение губернской реформы
3. Восстание под предводительством Пугачёва
4. Семилетняя война
5. Учреждение первого в России университета
6. Издание жалованной грамоты городам

2. Высший орган управления, который пришёл на смену Боярской думе

1. Сенат 2. Синод 3. Ратуша 4. Главный Магистрат
3. Ништадтский мир Россия и Швеция подписали в
1. 1714 2. 1721 3. 1724 4. 1725

4. Заполните недостающее в таблице:

Просветители (имя)	Идеи Просвещения
	Разружьте старое здание обмана! Раздавите гадину!
Дени Дидро	
	Власть в государстве должна принадлежать народу! ( республика)
Шарль Луи Монтескье	

5. Прочитайте отрывок из исторического источника. Отметьте положения, которые относятся к этому источнику.

«Великий государь указал... в своем Велико Российском государстве для всенародной пользы учинить восемь губерний и к ним росписать города... А именно те губернии учинены:

I. Московская... Итого (с Москвой) 39 городов.

II. Ингерманландская. Санктпетербург, а к нему... всего 29 городов. В той же губернии, кроме вышеписанных городов, города: Ямбург, Копорье отданы во владение светлейшему князю Александру Даниловичу Меншикову.

III. Киевская... Всего в Киевской губернии 56 городов.

IV. Смоленская... Всего в Смоленской губернии 17 городов.

V. Архангелогородская... Итого 20 городов.

VI. Казанская... Всего в Казанской губернии и с селы 71 город.

VII. Азовская... Итого 25 городов.

VIII. Сибирская... Всего 30 городов».

### ХАРАКТЕРИСТИКИ

- 1) Данный законодательный акт был издан Петром I
- 2) По данному законодательному акту в губерниях судебная власть отделялась от административной (губернаторской).
- 3) Данный законодательный акт впервые делил территорию России на губернии.
- 4) Данный законодательный акт был издан в эпоху дворцовых переворотов.

- 5) Данный законодательный акт был издан в 1775 г.  
 6) Данный законодательный акт предусматривал создание всесословного суда.

Ответ:

6. Установите соответствие между деятелями русской культуры XVIII века и их произведениями. Заполните таблицу.

Имя деятеля	Произведения
1. Матвеев А.А.	А. Панорама Петербурга ( гравюра)
2. Д. Трезини	Б. Автопортрет с женой
3. Зубов А.Ф.	В. Изобретение токарного станка
4. Нартов А.И.	Г. Петропавловский собор в Петербурге
5. Посошков И.Т.	Д. Книга о скудости и богатстве

1	2	3	4	5

7. Выберите из списка три основные задачи внешней политики, которые стояли перед правительством Петра I. Запишите цифры, под которыми они указаны.

- 1) выход России к Чёрному морю
- 2) выход России к Каспийскому морю
- 3) присоединение территории Поволжья
- 4) возвращение в состав России Левобережной Украины
- 5) возвращение в состав России Правобережной Украины
- 6) завоевание выхода к Балтике

8. Установите соответствие между событиями и датами.

События	Даты
А) подписание Ништадского мира Б) сражение у деревни Лесной В) Азовские походы Г) Каспийский (Персидский) поход	1) 1722 г. 2) 1708 г. 3) 1709 г. 4) 1721 г.

А	Б	В	Г

9. Из предложенных иллюстраций выберите те, которые относятся к XVIII веку. Укажите название памятника архитектуры и архитектора.



Рисунок 1



Рисунок 2




Рисунок 3



Рисунок 4

10. Ниже приведён ряд имён видных исторических личностей. Все они, за исключением двух, относятся к XVIII в.

- 1) Яворский С.
- 2) Головкин Г.И.
- 3) Булавин К.
- 4) Хмельницкий Б.
- 5) Трезини Д.
- 6) патриарх Никон

11. Напишите пропущенное словосочетание.

Изданная Петром I \_\_\_\_\_, устанавливая принципиально новые критерии служебной годности, предоставляла возможность пополнять дворянское сословие талантливыми выходцами из других социальных групп.

12. Установите соответствие между терминами, понятиями и их определениями.

Термин	Значение
А. Посессионные крестьяне	<ol style="list-style-type: none"> <li>1. форма налога, когда налог взимается в одинаковом или примерно одинаковом размере с каждого подлежащего обложению человека, по результатам переписи</li> <li>2. категория крепостных <b>крестьян</b> в Российской империи XVIII — первой половине XIX века, закреплённых за мануфактурами.</li> <li>3. лицо, принятое на военную службу по воинской повинности или найму.</li> </ol>
Б. Рекрут	
В. Мануфактура	
Г. Подушная подать	

	4. Организация производства с применением разделения труда
--	--

А	Б	В	Г

13. Прочтите отрывок из сочинения историка и ответьте на вопросы.

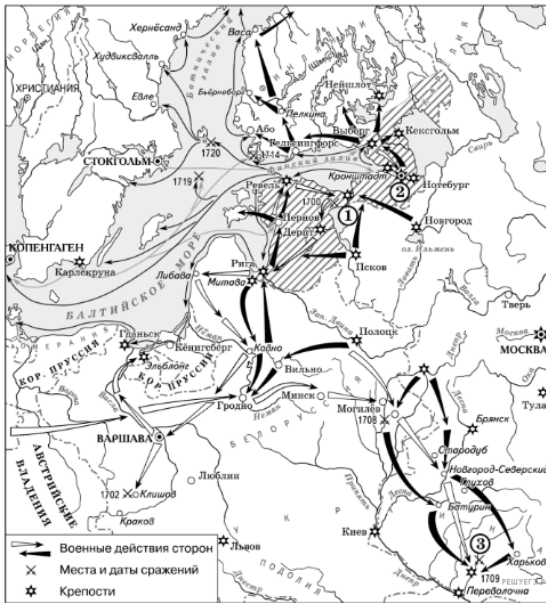
«Победа не только освободила от шведов Украину и Россию, но и освободила от страха перед ними несколько государств Европы. Более того, это событие оказалось переломным как в истории России, так и четырёх других государств — Швеции, Саксонии, Речи Посполитой и Дании. <...> До него Россия занимала скромное место в расчётах западных держав, победа же резко подняла политический и военный престиж России. Впервые за свою историю она стала полноправным балтийским государством и членом европейской системы союзов, обозначив свои интересы на континенте. Инициатива действий не только на суше, но и на море стала принадлежать русскому флоту. Англия, которая до Полтавы едва замечала Россию и отказывалась в 1707 г. включить эту страну в Великий союз. Англия, в столице которой — неслыханный позор! — был избит и посажен в тюрьму русский посол А. А. Матвеев, после победы заявила о необходимости улучшения отношений с царём. Франция, отклонившая в 1706 г. заключение торгового договора с Русским государством, теперь, опасаясь появления полтавских ветеранов на службе Великого союза, пыталась перехватить инициативу и использовать Петра в центре Европы. <...> Теперь русскому правительству уже не было нужды увеличивать вес своего престижа бочонками с серебром или обещаниями поставки солдат на Рейн или в Испанию. Сфера влияния победившей страны выросла особенно в Польше, Северной Германии и даже на Балканах, где вспыхнули надежды на освобождение от османского ига православным царём».

- 1) О каком сражении идёт речь в тексте? Укажите год, когда оно произошло.
- 2) Как историк определяет значение итогов этого сражения для России и других государств? Назовите не менее двух положений.
- 3) Напишите внешнеполитические события, совершённые Петром до и после Северной войны (одно ДО и одно ПОСЛЕ)
- 4) Какое сражение Северной войны Пётр называл «Матерью Полтавской Викторией»? Когда оно произошло?
- 5) Какое предложение в тексте можно использовать как последствие битв при Гангуте и Гренгаме?

14. Рассмотрите схему и выполните задание.

14.1. Напишите имя российского монарха, в годы правления которого шла война, события которой обозначены на данной схеме.

---



14.2. Рассмотрите схему выше и выполните задания

Какие суждения, относящиеся к событиям, обозначенным на схеме, являются верными? Выберите несколько суждений из шести предложенных. Запишите в таблицу цифры, под которыми они указаны.

1. В ходе войны, события которой обозначены на данной схеме, проводились рекрутские наборы.
2. Мирный договор, завершивший войну, события которой изображены на данной схеме, был подписан в городе, обозначенном цифрой 2.
3. Одну из решающих побед в данной войне русская армия одержала в сражении, обозначенном цифрой 3.
4. Следствием войны, события которой изображены на данной схеме, стала утрата Россией статуса морской державы.
5. После завершения войны, события которой обозначены на данной схеме, Россия стала империей.
6. В результате этой войны Россия утратила заштрихованные на схеме террито

## Контрольная работа по истории 8 класс II полугодие (60 минут)

1. Выберите из списка положения, которые соответствуют идеям Екатерины II, которые она изложила в «Наказе» Уложенной комиссии

1. «Государев наместник не есть судья» - идея самостоятельности судей
2. Ограничение власти монарха в пользу представительного органа
3. Необходимость Конституции
4. Для создания общего блага необходимо народ просвещать.
5. Власть монарха не должна быть никем ограничена.

2. Выберите термины, которые имеют отношение к эпохе Дворцовых переворотов.

1. Сенат 2. Синод 3. бирюшчина 4. кондиции
3. Ясский мир Россия и Османская империя подписали в
1. 1714 2. 1721 3. 1724 4. 1791
4. Заполните недостающее в таблице:

Деятель культуры (имя)	Идеи, произведения
А.Н. Радищев	
	Журнал «Кошелек»
	Комедии «Недоросль», «Бригадир»
Н. М. Карамзин	

5. Прочитайте отрывок из исторического источника. Отметьте положения, которые относятся к этому источнику

- «1. Дабы губерния, или наместничество, порядочно могла быть управляема, полагается в оной от 300 до 400 000 душ...  
3. В губернии или наместничестве учреждается правитель наместничества или губернатор...  
6. В губернии учреждается Палата уголовного суда...  
8. В губернии учреждается Палата гражданского суда...  
13. В каждом наместничестве или губернии учреждается Верхний земский суд...  
35. В каждом наместничестве (губернии) учреждается Губернский магистрат...  
38. В каждом наместничестве или губернии учреждается по одному приказу под названием: Приказ общественного призрения».

### ХАРАКТЕРИСТИКИ

- 1) Данный законодательный акт был издан Петром I
- 2) По данному законодательному акту в губерниях судебная власть отделялась от административной (губернаторской).
- 3) Данный законодательный акт впервые делил территорию России на губернии.
- 4) Данный законодательный акт был издан в эпоху дворцовых переворотов.
- 5) Данный законодательный акт был издан в 1775 г.
- 6) Данный законодательный акт предусматривал создание сословного суда.

Ответ:

6. Установите соответствие между деятелями русской культуры XVIII века и их произведениями. Заполните таблицу.

Имя деятеля	Произведения
1. М.В. Ломоносов	А. Портрет «Екатерина-законодательница»
2. Д.Г. Левицкий	Б. Основание университета
3. В.И. Баженов	В. Дом Пашкова
4. А.Н. Радищев	Г. Комедия «Недоросль»
5. Д.И. Фонвизин	Д. «Путешествие из Петербурга в Москву»

1	2	3	4	5

7. Выберите из списка три основные задачи внешней политики, которые стояли перед правительством Екатерины II. Запишите цифры, под которыми они указаны.

- 1) выход России к Чёрному морю
- 2) выход России к Каспийскому морю
- 3) присоединение территории Поволжья
- 4) возвращение в состав России Левобережной Украины
- 5) возвращение в состав России Правобережной Украины
- 6) обеспечение безопасности завоеваний в Прибалтике

8. Установите соответствие между событиями и датами.

События	Даты
А) подписание Ясского мира Б) сражение у реки Кагул В) начало первой Русско-турецкой войны в годы правления Екатерины II Г) первый раздел Речи Посполитой	1) 1768 г. 2) 1770 г. 3) 1772 г. 4) 1791 г.

А	Б	В	Г

9. Из предложенных иллюстраций выберите те, которые относятся к XVIII веку. Укажите название памятника архитектуры и архитектора.

Рисунок



5



Рисунок 6




Рисунок 7



Рисунок 8

10. Ниже приведён ряд имён видных исторических личностей. Все они, за исключением двух, относятся к XVIII в.

- 1) Яворский С.
- 2) Головкин Г.И.
- 3) Булавин К.
- 4) Хмельницкий Б.
- 5) Трезини Д.
- 6) патриарх Никон

11. Напишите пропущенное словосочетание.

Изданная Екатериной II \_\_\_\_\_, подтверждала права этого сословия и наделяла его новыми привилегиями.

12. Установите соответствие между терминами, понятиями и их определениями.

Термин	Значение
А. Посессионные крестьяне Б. Рекрут В. Мануфактура Г. Подушная подать	<ol style="list-style-type: none"><li>1. форма налога, когда налог взимается в одинаковом или примерно одинаковом размере с каждого подлежащего обложению человека, по результатам переписи</li><li>2. категория крепостных <b>крестьян</b> в Российской империи XVIII — первой половине XIX века, закреплённых за мануфактурами.</li><li>3. лицо, принятое на военную службу по воинской повинности или найму.</li><li>4. Организация производства с применением разделения труда</li></ol>



А	Б	В	Г

13. Прочтите отрывок из документа и ответьте на вопросы.

А) Понеже по воле всемогущего Бога и по общему желанию российского народа мы по преставлении всепресветлейшего державнейшего Великого государя Петра Второго, императора и самодержца Всероссийского, ...

Еще обещаемся, что понеже целость и благополучие всякого государства от благих советов состоит, того ради мы ныне уже учрежденный Верховный тайный совет в восьми персонах всегда содержать и без оного Верховного тайного совета согласия:

1. Ни с кем войны не всчинять.
2. Миру не заключать.
3. Верных наших подданных никакими новыми податми не отягощать.
4. В знатные чины, как в статские, так и в военные, сухопутные и морские, выше полковничья ранга не жаловать, ниже к знатным делам никого не определять, и гвардии и прочим полкам быть под ведением Верховного тайного совета.
5. У шляхетства живота и имения и чести без суда не отымать.
6. Вотчины и деревни не жаловать.
7. В придворные чины, как русских, так и иноземцев, без совету Верховного Тайного совета не производить.
8. Государственные доходы в расход не употреблять — и всех верных своих подданных в неотменной своей милости содержать.

А буде чего по сему обещанию не исполню и не додержу, то лишена буду короны российской.

13.1. С именем какого монарха связан этот документ?

13.2. Деятели какой органа власти являются автором этого документа? Какова их судьба после создания этого документа?

13.3. Каково отношение монарха, которому адресован этот документ к положениям этого документа?

14. Напишите фамилию русского полководца, под командованием которого была взята штурмом хорошо укрепленная крепость, обозначенная на схеме цифрой 2.

