

Контрольная работа по географии 7 класс за 1 полугодие

1. Где земная кора имеет наименьшую толщину?
 1. В Кордильерах;
 2. В Гималаях;
 3. На дне океана;
 4. В Амазонской низменности.
2. Поверхностные течения Мирового океана зависят от:
 1. Рельефа дна океана;
 2. Постоянных ветров Земли;
 3. Приливов и отливов;
 4. Рельефа суши.
3. На каких картах можно обнаружить зависимость рельефа от особенностей земной коры?
 1. Физической карте мира и карте «Строения земной коры»;
 2. Карте «Строения земной коры» и карте природных зон;
 3. Геологической карте и карте природных зон.
4. Направление ветров на климатической карте показывают:
 1. Изотермы;
 2. Изолинии;
 3. Стрелки;
 4. Изогипсы.
5. Почему Африка- самый жаркий материк?
 1. Большая часть Африки расположена между тропиками;
 2. Здесь расположены крупнейшие пустыни мира;
 3. Африку омывает самый тёплый океан Земли- Индийский.
6. Какой из перечисленных ниже процессов не является проявлением внешних сил?
 1. Процесс поглощения солнечной энергии Землёй;
 2. Ветровая эрозия;
 3. Процесс движения литосферных плит;
 4. Процесс образования оврагов.
7. К устойчивым участкам земной коры относятся:
 1. Платформы;
 2. Области новой складчатости (молодые горы);
 3. Области древней складчатости (старые горы).
8. Если рельеф территории горный, то в основном находится:
 1. Складчатая область;
 2. Платформа.
9. Определите тип климата по описанию: температура января -10..-15°С, температура июля +20..+25°С. Осадки выпадают в течение всего года, но с летним максимумом. Годовая сумма осадков 250-300мм. На каких материках представлен этот тип климата?

Ответ: _____
10. В пределах Тихоокеанского вулканического кольца находится 80% всех современных действующих вулканов. В чём это можно объяснить? Укажите не менее двух причин.

Ответ: _____
11. По размерам территории Африка уступает
 - а) Евразии
 - б) Северной Америке
 - в) Южной Америке
12. Крайней восточной точкой материка является мыс

- а) Рас-Энгела
 - б) Рас-Хафун
 - в) Игольный
13. В отличие от других материков Африка пересекается
- а) южным полярным кругом
 - б) нулевым меридианом
 - в) почти посередине экватором
14. Обогнул Южную Африку, открыл морской путь в Индию
- а) Васко да Гама
 - б) Давид Ливингстон
 - в) В.В. Юнкер
15. В основании большей части материка лежит
- а) область древнейшей складчатости
 - б) область новой складчатости
 - в) древняя платформа
16. Приподняты на высоту более 1000 м
- а) Северная и Южная Африка
 - б) Южная и Восточная Африка
 - в) Северная и Западная Африка
17. Наиболее высокими горами являются
- а) Капские
 - б) Драконовы
 - в) Атлас
18. На большей части Африки среднегодовая t° воздуха
- а) от 10 до 20° С
 - б) ниже 10° С
 - в) выше 20° С
19. Максимальное количество осадков выпадает
- а) на Эфиопском нагорье
 - б) на юго-западных склонах горы Камерун
 - в) в бассейне реки Конго
20. Самая полноводная река Африки
- а) Замбези
 - б) Конго
 - в) Нил
21. Самое большое по площади озеро
- а) Виктория
 - б) Чад
 - в) Танганьика
22. Природная зона, занимающая 30% площади материка
- а) экваториальные леса
 - б) саванны
 - в) пустыни
23. Самое губительное стихийное бедствие для Африки
- а) засухи
 - б) наводнения
 - в) землетрясения
24. Самая крупная страна по населению
- а) Египет
 - б) Нигерия

в) ЮАР

25. Арабы, египтяне, ливийцы относятся к расе

- а) европеоидной
- б) экваториальной
- в) промежуточной

26. Установите соответствие

Природная зона

Растения, животные

- 1. Экваториальные леса
- 2. Саванны
- 3. Пустыни

- а) алоэ, молочай, шакалы, гиены
- б) пальмы, эбенное дерево, окапи, шимпанзе
- в) травы, зонтичные акации, зебры, бегемоты

27. Установите соответствие

Климатический пояс

Особенности климата

- 1. Экваториальный
- 2. Субэкваториальный
- 3. Тропический

- а) 2 сезона: сухая зима и влажное лето, смена ЭВМ и ТВМ
- б) постоянство, высокие t° , большая влажность
- в) жаркий, сухой, большая суточная амплитуда t°

28. Дайте определения

Рельеф – это... _____

Пустыня – это... _____

29. Определите протяженность Африки с севера на юг по 20° в.д.

Ответ: _____

Контрольная работа по географии за 2 полугодие для 7 класса (без использования географических карт) -1,5 часа

Ф.И. учащегося _____

Часть 1. Выберите правильный ответ.

1) Какая из перечисленных территорий расположена в пределах сейсмического пояса?

- 1) Японские острова
- 2) Остров Мадагаскар
- 3) полуостров Индостан
- 4) остров Гренландия

2) Какая из перечисленных горных систем самая высокая?

- 1) Гималаи 2) Анды 3) Атлас 4) Кордильеры

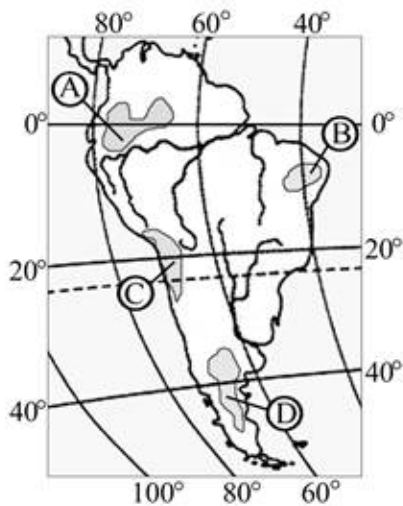
3) Какой буквой на карте обозначена гора Аконкагуа?



- 1) А 2) Б 3) В 4) Г

4) На какой из территорий, обозначенных буквами на карте Южной Америки, среднегодовое количество атмосферных осадков наименьшее?

- 1) А 2) В 3) С 4) D



5) Самое мощное теплое течение в Мировом океане:

- 1) Гольфстрим 2) Бразильское 3) Гвинейское 4) Куроисио

6 Укажите ошибочное сочетание «материк — река».

- 1) Африка — Замбези
- 2) Австралия — Муррей
- 3) Южная Америка — Ориноко
- 4) Северная Америка — Парана

7 Скрэб (заросли колючих кустарников) характерны для материка:

- 1) Австралии
- 2) Африки
- 3) Южной Америки
- 4) Антарктиды

8 Какие координаты имеет самая западная точка Африки?

- 1) 14° с.ш.; 15° з.д.;
- 2) 14° ю.ш.; 17° з.д.;
- 3) 17° с.ш.; 26° з.д.;
- 4) 11° с.ш.; 3° в.д.

9 По карте плотности населения определите, какая из названных территорий заселена меньше?

- 1) Европа;
- 2) Южная Америка;
- 3) Австралия;
- 4) север Африки.

10 Какое из перечисленных морских течений действует в Тихом океане?

- 1) Гольфстрим 2) Бразильское 3) Гвинейское 4) Куроисио.

11. На климат европейских стран большое влияние оказывают :

- А) холодные арктические воздушные массы;
- Б) влажные атлантические воздушные массы;
- В) сухие континентальные воздушные массы
- Г) муссоны.

12. Общую границу с Россией имеет:

- А) Германия Б) Финляндия В) Молдавия Г) Румыния

13. Какая из перечисленных стран не имеет выхода к морю?

- А) Швейцария; Б) Франция; В) Украина; Г) Латвия.

Часть 2. Установите соответствие.

В-1. Определите, о какой природной зоне говорится:

«Характерны желтоземные и красноземные почвы. Субтропические вечнозеленые леса и кустарники.

Характерные представители животного мира: гепарды, зебры, носороги, слоны».

В-2. Установите соответствие между строением земной коры и рельефом.

ГОРЫ

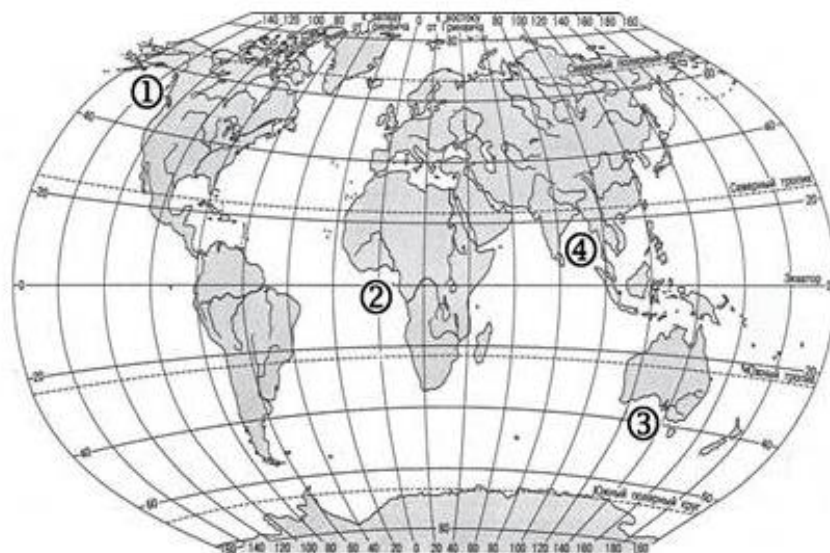
ВОЗРАСТ СКЛАДЧАТОСТИ

- 1) Гималаи
- 2) Урал
- 3) Верхоянский хребет

- А. Мезозойский
- Б. Кайнозойский
- В. Герцинский

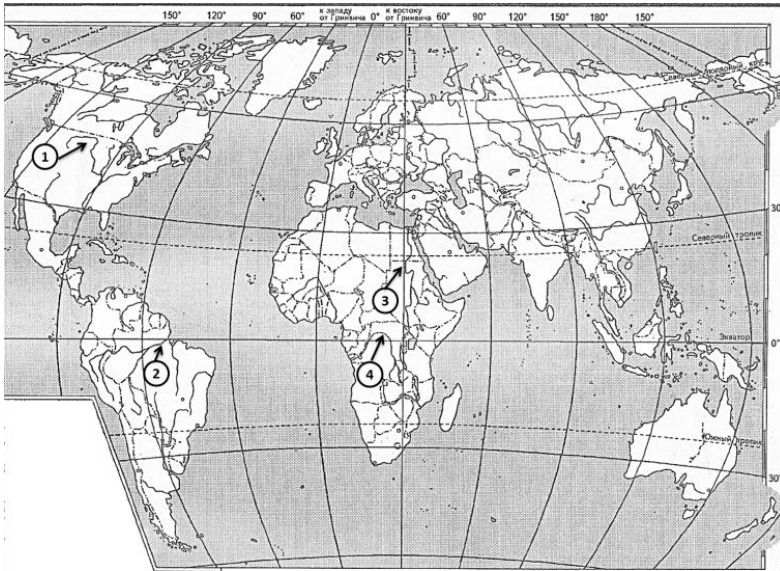
В-3. С помощью карты сравните среднегодовое количество осадков в точках, обозначенных на карте буквами А, Б, В. Расположите эти точки в порядке увеличения количества осадков, выпадающих в них.

В-4. Установите соответствие между заливом и его расположением на карте, обозначенным цифрой.



	ЗАЛИВ	РАСПОЛОЖЕНИЕ НА КАРТЕ
А)	Гвинейский	1) 1
Б)	Бенгальский	2) 2
В)	Аляска	3) 3
		4) 4

В 5. Установите какой цифрой (на карте 1) обозначены реки перечисленные ниже



НАЗВАНИЯ РЕК:

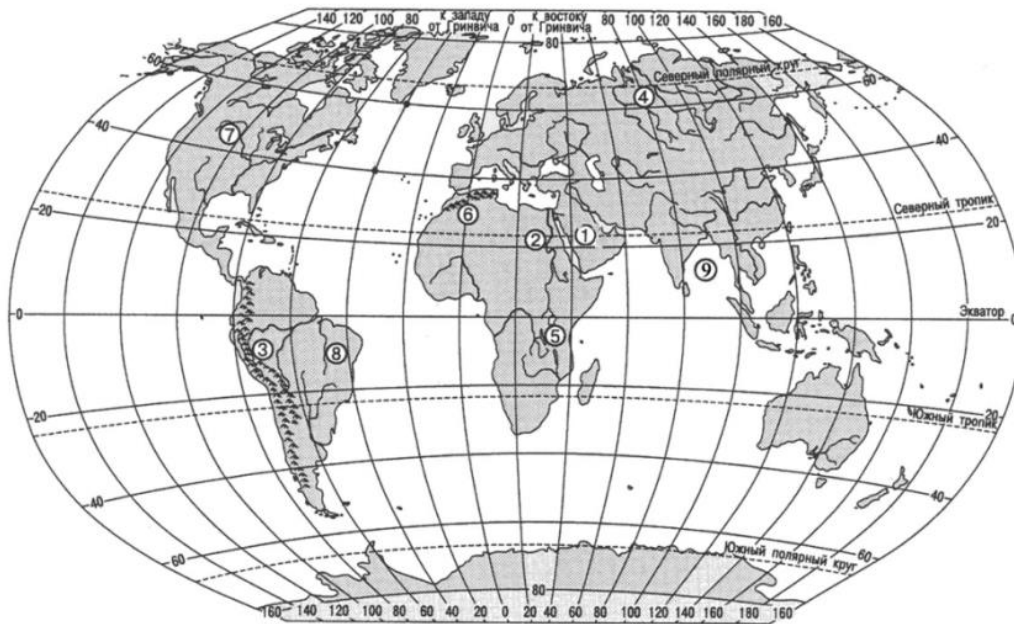
- A) Нил
- B) Амазонка
- C) Конго
- D) Миссисипи

A _____ B _____ C _____ D _____

В 6. Установите какой цифрой на карте обозначены объекты перечисленные ниже.

ГЕОГРАФИЧЕСКИЕ ОБЪЕКТЫ

- A) горы Атлас
- B) Бразильское плоскогорье
- C) Аравийский полуостров
- D) горы Анды



A _____ B _____ C _____ D _____

В7. Установите соответствие между понятием и его определением:

- | | |
|--------------|--|
| 1) сирокко | A) узкий морской залив |
| 2) морена | B) скопление островов |
| 3) польдеры | В) горные породы, отложенные или переносимые ледником |
| 4) архипелаг | Г) жаркий сухой ветер, дующий из пустынь Африки |
| 5) фьорд | Д) низкие участки морских побережий, ранее бывшие дном моря. |

1 _____ 2 _____ 3 _____ 4 _____ 5 _____

В 8. Установите соответствие между страной и полуостровом, на котором она находится:

- | | |
|------------|------------------|
| 1) Испания | А) Балканский |
| 2) Греция | Б) Скандинавский |
| 3) Дания | В) Пиренейский |
| 4) Швеция | Г) Ютландия |

1 2 3 4

В 9. Установите соответствие между понятием и его определением:

- | | |
|-------------|--|
| 1) мистраль | А) горные пастбища |
| 2) шхеры | Б) выступы твердых горных пород в русле реки |
| 3) плато | В) холодный ветер с севера |
| 4) пороги | Г) множество островов, отполированных ледниками. |
| 5) полонины | Д) возвышенная равнина, отделенная склонами и обрывами от окружающей местности |

1 2 3 4 5

Часть 3. Определите страны по описанию.

1

Это – одна из крупных по площади стран мира, имеет выход к трем океанам. На её территории находится одна из крайних точек материка, на котором она расположена. По суше граничит лишь с одной страной. Большая часть ее населения расположена вдоль южной границы. Страна богата разнообразными полезными ископаемыми, а также лесными, земельными, водными ресурсами.

2

На контурной карте цифрами обозначены государства Европы. Определите эти государства и запишите их названия.



1 -

2 -

3 -

4 -

5 -
